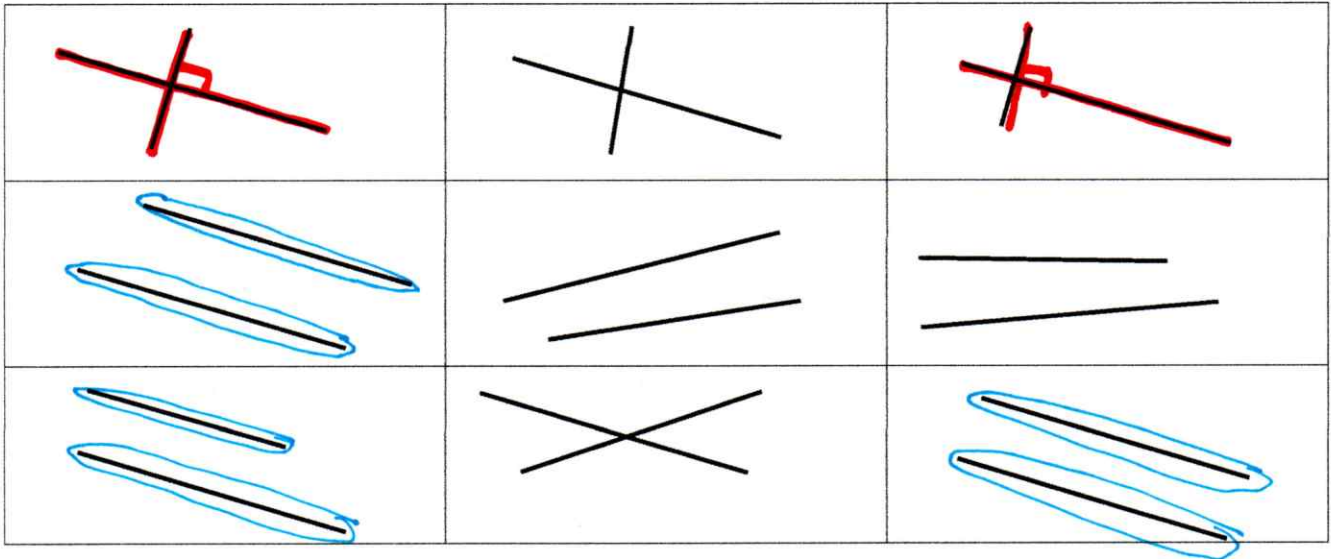


## DROITES PERPENDICULAIRES ET PARALLELES

**Exercice 1 :** *Colorie les droites perpendiculaires en rouge et les droites parallèles en bleu.*



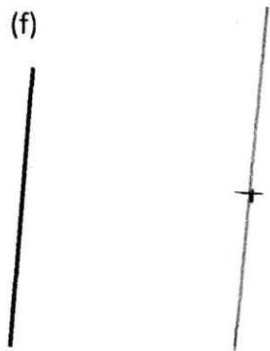
**Exercice 2 :** *Trace les droites parallèles à chacune des droites au centimètre demandé.*

A 3 cm de la droite (f) :

A 5 cm de la droite (g) :

A 2,5 cm de la droite (p) :

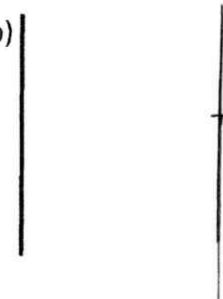
(f)



(g)



(p)



**Exercice 3 :** *Trace les droites ~~perpendiculaires à chacun des droites~~, en passant par le point.*

